

ЗАДАНИЯ ДЛЯ ОБУЧАЮЩИХСЯ

Время выполнения заданий – 60 минут

Максимальное количество баллов – 92.

1. Выберите правильный ответ. Ответы внесите в таблицу.

(По 1 баллу за каждый верный ответ. Максимальный балл за задание – 10).

1.1. Отметьте реки, вдоль которых расселялись племена древних славян

1) Висла, Одер

3) Вятка, Белая

☒ 2) Волхов, Днепр

4) Сава, Морава

1.2. В каком городе найдены древнейшие следы пребывания норманнов?

☒ 1) Новгород

3) Ладога

2) Киев

4) Ярославль

1.3. О походе какого князя летописец рассказывал, что князь вытащил корабли на сушу и приказал поставить их на колеса, так что суда сами покатались к стенам Константинополя?

1) Аскольд

☒ 3) Олег

2) Дир

4) Игорь

1.4. Кто из перечисленных историков писал о Ярославе Мудром: «Время Ярослава ознаменовалось распространением христианской религии по всем русским землям. Тогда уже выросло поколение тех детей, которых Владимир отдавал в книжное учение. Ярослав в этом отношении продолжал дело своего отца...»

1) С.М.Соловьев

☒ 3) Н.И.Костомаров

2) В.О.Ключевский

4) Б.И.Рыбаков

1.5. Кто из князей воевал на стороне половцев в военном походе 1093 г.?

1) Всеволод Ярославич

3) Олег Святославич

☒ 2) Святополк Изяславич

4) Владимир Всеволодович

1.6. Финские племена, которые жили на берегу Финского залива в XII веке, в основном платили дань

1) Шведскому королевству

☒ 3) Золотой орде

☒ 2) Великому Новгороду

4) Французскому государству

1.7. Московский князь Юрий Данилович вступил в конфликт по поводу ярлыка на великое княжение владимирское с князем

1) Александром Невским

3) Иваном Калитой

☒ 2) Михаилом Ярославичем Тверским

4) Дмитрием Донским

1.8. Когда после нашествия Батыя возобновилось каменное строительство в русских городах?

☒ 1) В конце XIII века

3) Во второй половине XIV века

2) В начале XIV века

4) В конце XV века

1.9. В состав какого государства в начале XV века входили Черниговское, Турово-Пинское и Смоленское княжества?

☒ 1) Московского княжества

2) Монгольской империи

**ИСТОРИЯ
7 КЛАСС**

- 3) Киевского княжества
4) Великого Литовского княжества
1.10. В каком году произошла битва на реке Ведроши?
1) 1480 г.
2) 1500 г.
3) 1505 г.
4) 1510 г.

Ответ:

1.1	1.2	1.3	1.4	1.5	1.6	1.7	1.8	1.9	1.10
1	0	1	1	0	1	1	1	0	1

2. Что с исторической точки зрения объединяет перечисленные в ряду элементы? Дайте максимально точный ответ.

(По 2 балла за каждый верный ответ. Максимальный балл за задание – 6)

- 2.1. Канон, устав, автокефальность, догмат.
2.2. Губа, кормления, стрельцы, местничество.
2.3. Пожилое, тягло, заповедные лета, судебники.

Ответ:

- 2.1. Это указывает на 4 существительных: Иерусалим, Иерусалим, Иерусалим, Иерусалим.
2.2.
2.3.

3. Расположите события в хронологической последовательности. Ответы внесите в таблицу. (10 баллов за полностью верную последовательность, 7 баллов за последовательность с одной ошибкой, 3 балла, если допущено две ошибки, 0 баллов, если допущено более двух ошибок. Максимальный балл за задание – 10).

- А) Крестовые походы;
Б) Разорение Рязани Батыем;
В) Грюнвальдская битва;
Г) Битва на реке Воже;
Д) Взятие крестоносцами Константинополя;
Е) Окончание опричнины;
Ж) Указ «Об урочных летах»;
З) Восстание под руководством У.Тайлера;
И) Куликовская битва;
К) Создание «Русской правды».

Ответ:

К	З	Б	Г	И	З	Д	В	Е	А
---	---	---	---	---	---	---	---	---	---

4. Назовите авторов документов, отрывки из которых представлены ниже. (По 2 балла за каждый верный ответ. Максимальный балл за задание – 10).

4.1. «Старых чтите, как отца, а молодых, как братьев... На войну выйдя, не ленитесь, не полагайтесь на воевод; ни питью, ни еде не предавайтесь, ни снанию; сторожей сами наряживайте, и ночью расставив стражей со всех сторон, около воинств ложитесь, а вставайте рано...»

4.2. «Все эти племена имели свои обычаи, и законы своих отцов, и предания, и каждые – свой нрав. Поляне имеют обычай отцов своих кроткий и тихий, стыдливы перед снохами своими и сестрами, матерями и родителями; перед свекровьями и

ИСТОРИЯ
7 КЛАСС

деверями великую стыдливость имеют; имеют и брачный обычай: не идет зять за невестой, но приводит ее накануне, а на следующий день приносят за нее – что дают».

4.3. «Заря осветила небо, ясное, чистое. Казанцы стояли на стенах; россияне перед ними, под защитой укреплений, по сению знамен, в тишине, неподвижно; звучали только бубны и трубы, неприятельские и наши; ни стрелы не летали, ни пушки не гремели».

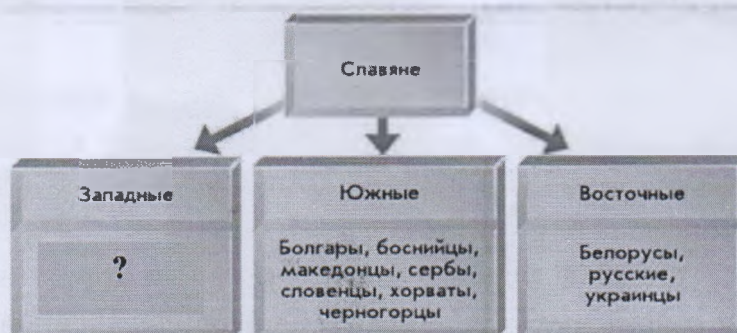
4.4. «Ты же ради тела погубил душу, презрел нетленную славу ради быстротекущей и, на человека разъярившись, против Бога восстал. Пойми же, несчастный, с какой высоты в какую пропасть ты низвергся душой и телом!.. ...ты бежал не от смерти, а ради славы в той кратковременной и скоротекущей жизни и богатства ради...».

4.5. «Собирающий злато и серебро, и уповающий на него, обнаруживает сим свое неверие в ту истину, что Бог печется о нем, сказали Отцы... Не токмо, говорит преподобный, надлежит нам остерегаться пристрастия к злату, и серебру, и к имуществу, но и ко всякой вещи, сверх необходимой потребности...».

Ответ:

- 4.1. _____
- 4.2. _____
- 4.3. _____
- 4.4. _____
- 4.5. _____

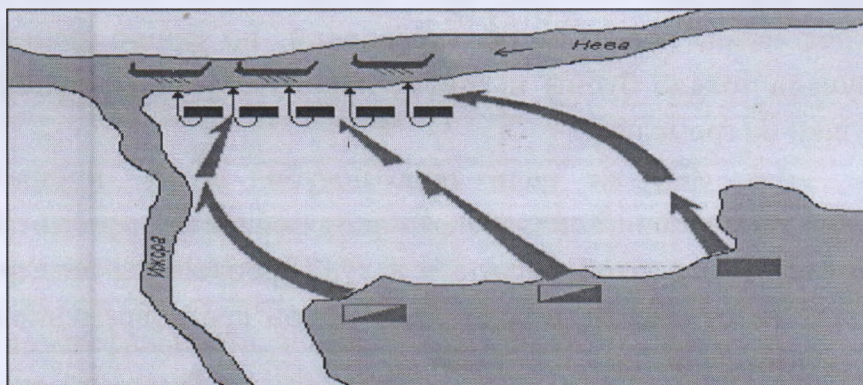
5. Заполните схему. (По 1 баллу за каждый верно указанный ответ. Максимальный балл за задание – 3).



Ответ:

1 1
поляки, чехи, кашубы, лужичане

6. Рассмотрите внимательно схему и ответьте на вопросы. (По 2 балла за каждый правильный ответ. Максимальный балл за задание – 12)



2 6.1. О каком событии идет речь во фрагменте на схеме?

Ответ: Невская битва

2 6.2. Когда произошло это событие? (Укажите точную дату)

Ответ: 1240 год

2 6.3. Кто командовал русским войском?

Ответ: Александр Невский

2 6.4. С кем сражались русские войска в этой битве?

Ответ: Со шведским войском

2 6.5. Назовите командующего вражеским войском.

Ответ: Бергера

0 6.6. Какова была главная цель вражеской стороны?

Ответ: Шведы пытались крестить балтийские, карельские, и финские племена, а также оторвать от новгородских земель их свои земли

7. Прочитайте внимательно текст и найдите ошибки. Ответ запишите в таблицу (обратите внимание, что цифр в таблице может быть больше количества ошибок в тексте). (По 1 баллу за каждую правильно указанную ошибку. Максимальный балл за задание – 11)

«В 1068 году печенеги совершили крупный поход на Русь. Навстречу им вышли войска трех русских князей – Рюриковичей. Битва с печенегами на реке Калке закончилась разгромом русской рати. Но когда Ярослав с остатками дружины вернулся в Новгород, народ собрался на вече и решил продолжать войну. Для новгородцев победа кочевников означала не просто военное разорение, но и невозможность продолжать выгодную торговлю с Польшей, поскольку печенеги

**ИСТОРИЯ
7 КЛАСС**

перекрывали путь по Неве на юг. Ярослав отказался подчиниться постановлению веча, мотивируя свой отказ усталостью дружины».

Ответ:

1	
2	
3	
4	
5	
6	
7	
8	
9	
10	
11	
12	


8. Посмотрите на изображения знаменитых памятников архитектуры. Укажите название (2 балла), время создания(1 балл) и место расположения (1 балл) каждого памятника. Ответ запишите в таблицу. (Максимальный балл за задание – 20).



1



2



3



4



5

ИСТОРИЯ
7 КЛАСС

Ответ:

№ п/п	Название	Время создания	Место расположения
1			
2			
3			
4			
5			

9. Вставьте пропущенные буквы в слова. (По 1 баллу за каждую правильно вставленную букву. Максимальный балл за задание – 10).

2 1. Публ.и.цист.и.ка

2 2. Энци.и.кл.о.педия

2 3. За.к.а.мара

2 4. Ч.е.л.о.битная

1 5. Це.нтр.о.лизованное

395