

вод этого океана, носит греческое название крупного млекопитающего. Название этого животного также отражено в названиях созвездий.

Определите

1. Название океана Северный Ледовитый 3
2. Самое большое по площади государство мира Россия 1
3. Самый большой по площади остров мира Гренландия 1
4. Крупное млекопитающее кит 0

Океан № 2. Имя этому океану дал португальский мореплаватель, возглавлявший испанскую кругосветную экспедицию. Имя этого океана не соответствует названию, не случайно его также называют «Великим», поскольку это самый большой по площади акватории океан, здесь расположена самая глубокая океаническая впадина. Это самый тёплый океан. У побережья самого маленького материка планеты находится самая крупная форма рельефа, построенная живыми организмами. Эта постройка находится в море, названном по названию этих уникальных организмов.

Определите

1. Название океана Тихий 3
2. Фамилию мореплавателя Фернан Магелан 1
3. Название впадины Мариянская 1
4. Море, названное по названию живых организмов Карамовое 1

Океан № 3. Это третий по площади океан мира, назван по названию государства. В нём расположено одно из «цветных» морей мира, отличающееся самой высокой солёностью поверхностных вод. Частью океана является залив, в котором зарегистрирована самая высокая температура поверхностных вод. И море, и залив омывают побережья самого большого по площади полуострова Земли.

Определите

1. Название океана Индийский 3
2. Самое солёное море Красное 1
3. Самый тёплый залив Персидский 1
4. Самый большой полуостров Аравийский 1

Океан № 4. Это второй по площади океан мира, в нём находится море без берегов. На востоке океана располагаются самое маленькое по площади и самое маленькое по глубине моря мира.

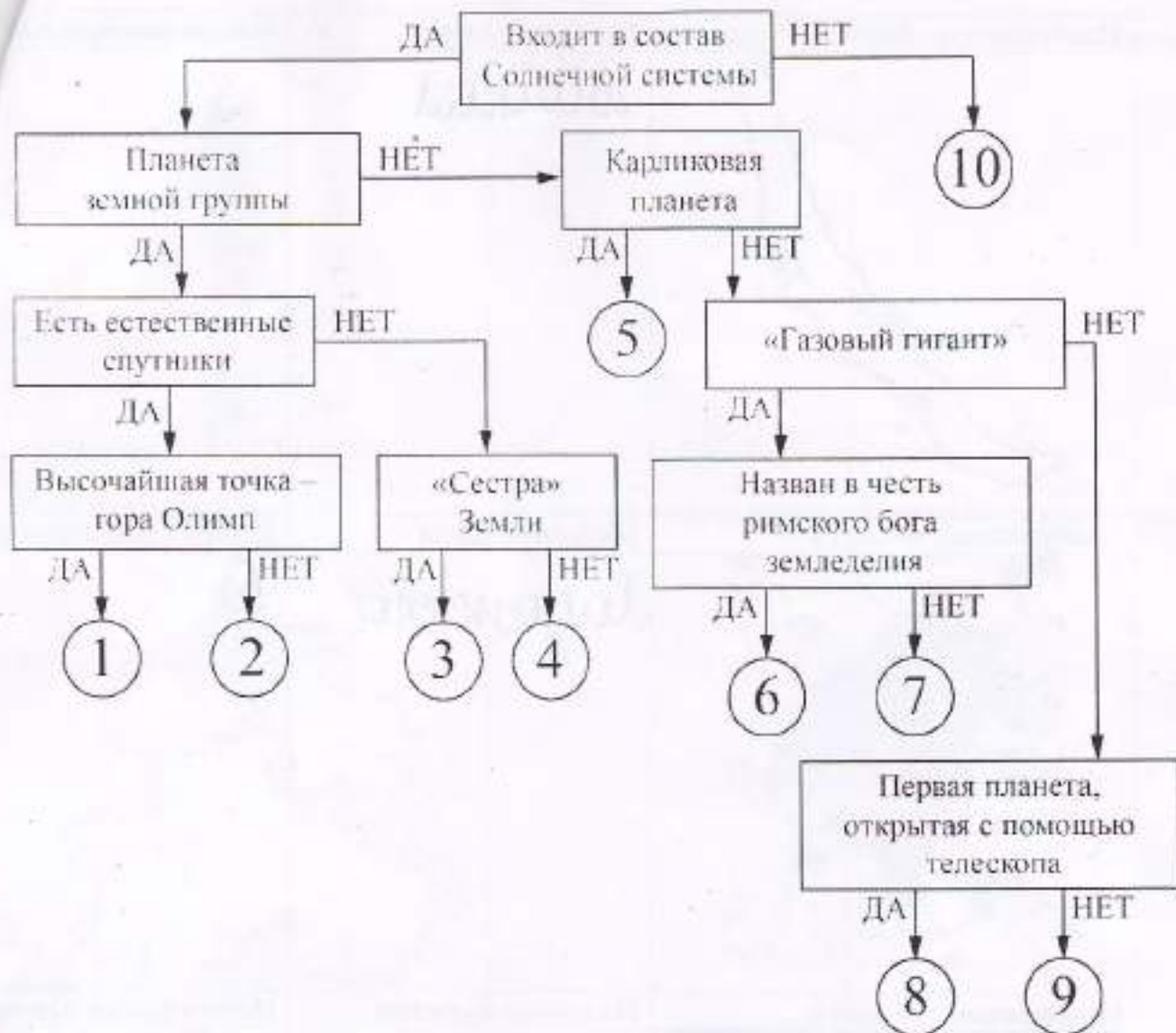
Определите

1. Название океана Атлантический 3
 2. Море без берегов Саргассово 1
 3. Самое маленькое море по площади Мраморное 1
 4. Самое маленькое море по глубине Фарерское 1
- Как называется «пятый» океан? Южный 1

Задание 2

Следуя алгоритму, распределите объекты на соответствующие позиции.

24



Под каждым объектом запишите номер соответствующей позиции на схеме.

Объект	№ на схеме	Объект	№ на схеме
Плутон	5	Нептун	4
Уран	8	Земля	2
Меркурий	1	Юпитер	9
Сатурн	6	Полярная Звезда	10
Венера	3	Марс	1

Задание 3





Определите по изображениям природные объекты-рекордсмены нашей страны. Напишите их названия в полях ответов и подберите высказывание (1 - 6), которое будет характерно для каждого определённого Вами объекта. Ответьте на вопрос в конце задания. Ответы запишите в именительном падеже словом или словосочетанием.


Внимание! Ответы с орфографическими ошибками не засчитываются.

Высказывания о природных объектах

- Самый большой по площади полуостров нашей страны.
- Наивысшая точка нашей страны – 5642 метра над уровнем моря.
- Самое глубокое озеро не только в нашей стране, но и во всём мире.
- Самый большой по площади остров в России.
- Самое большое по площади озеро в Европе.
- Самый высокий действующий вулкан во всей Евразии.

17,5

Изображение объекта	Название озера	Номер высказывания
	Байкал	3 + 4 +
	Ладожское	5 - 4 -
	Ключевская Сопка	6 + 4 +
	Эльбрус	2 + 4 +

Изображение объекта	Название острова	Номер высказывания
		

Изображение объекта	Название полуострова	Номер высказывания
		

<p>Один из определённых Вами объектов расположен неподалеку от второго по численности населения города нашей страны. Напишите название этого города</p>	<p>Название города</p>
	<p>Санкт-Петербург + 1</p>

$$\begin{array}{r} 135 \\ + 4 \\ \hline 139 \end{array}$$

 Итого:
$$\begin{array}{r} 71,5 \\ + 4 \\ \hline 75,5 \end{array}$$

I РАУНД (ТЕСТОВЫЙ)

1. Как называется наука о небесных телах? Обведи нужную букву.

- а) История б) география в) экология г) астрономия. +

2. Сколько планет вращается вокруг солнца? +

- а) 7 б) 8 и Плутон. в) 11 г) 15

3. Что такое глобус?

- а) модель Солнца б) модель Земли в) модель шара +

4. Люди, которые производят раскопки древних поселений: +

- а) археологи б) экологи в) астрономы г) географы

5. В каком городе был открыт первый музей в России - Кунсткамера?

- а) в Москве б) в Киеве в) в Санкт-Петербурге г) в Курске. +

6. Установи соответствие:

Где добывают полезные ископаемые?

- | | |
|---------------|------------------------|
| а) в шахтах | 1. нефть |
| б) буровые | 2. установки известняк |
| в) в карьерах | 3. каменный уголь |

а	б	в
1	3	2

7. Подчеркни лишнее слово в каждой строке.

- а) овес, кукуруза, подсолнечник, лук. +
 б) огурец, кабачок, чеснок, вишня. +
 в) груша, абрикос, гречиха, смородина. +
 г) капуста, лилия, прис, флоксы. +

8. На берегах какой реки возникло Египетское государство ? -

- а) Нил б) Амазонка в) Дон г) Конго.

9. Как называется воин на коне, закованный в латы, в шлеме, с мечом и щитом?

- а) витязь б) рыцарь в) оруженосец +

10. Какой материк называют Новым светом?

- а) Африка б) Америка в) Антарктида г) Австралия. +

11. Дополни предложение:

Великий путешественник Фернан Магеллан, совершив кругосветную экспедицию, доказал что Земля имеет шарообразность. + 25

12. Кто открыл Америку?

- а) Фернан Магеллан б) Христофор Колумб в) Михаил Лазарев. + 25

13. Дополни предложение:

Людей, которые ведут записи событий своего времени, называют летописцами. +

14. Кто основал Санкт-Петербург?

- а) Иван Грозный б) Петр Первый в) Александр Второй г) Екатерина Вторая. +

15. Дополни предложение:

Русские путешественники Фаддей Беллинсгаузен и Михаил Лазарев открыли материк Антарктида. + 25

II. АНАЛИТИЧЕСКИЙ РАУНД.

Задание 1

Гидросфера – водная оболочка Земли. Большую часть планеты занимает Мировой океан, который географы делят на отдельные океаны – кто-то на четыре, а кто-то на пять. Определите океаны планеты по текстовым описаниям, ответив на дополнительные вопросы, и напишите, какой «пятый» океан не представлен в описаниях. Ответы запишите в именительном падеже, словом или словосочетанием.

Океан № 1. Большая часть акватории океана принадлежит самой большой по площади стране мира. Несмотря на то, что это самый маленький по площади и глубине океан мира, его воды омывают самый большой по площади остров мира. Область планеты, в пределах

вод этого океана, носит греческое название крупного млекопитающего. Название животного также отражено в названиях созвездий.

Определите

1. Название океана Северный Ледовитый 3
2. Самое большое по площади государство мира Российская Федерация 1
3. Самый большой по площади остров мира Гренландия 1
4. Крупное млекопитающее медведь 1

Океан № 2. Имя этому океану дал португальский мореплаватель, возглавлявший испанскую кругосветную экспедицию. Имя этого океана не соответствует названию, не случайно его также называют «Великим», поскольку это самый большой по площади акватории океан, здесь расположена самая глубокая океаническая впадина. Это самый тёплый океан. У побережья самого маленького материка планеты находится самая крупная форма рельефа, построенная живыми организмами. Эта постройка находится в море, названном по названию этих уникальных организмов.

Определите

1. Название океана Тихий 3
2. Фамилию мореплавателя Магеллан 1
3. Название впадины Марияннская 1
4. Море, названное по названию живых организмов Ваннелиевое 1

Океан № 3. Это третий по площади океан мира, назван по названию государства. В нём расположено одно из «цветных» морей мира, отличающееся самой высокой солёностью поверхностных вод. Частью океана является залив, в котором зарегистрирована самая высокая температура поверхностных вод. И море, и залив омывают побережья самого большого по площади полуострова Земли.

Определите

1. Название океана Индийский 3
2. Самое солёное море Красное 1
3. Самый тёплый залив Персидский 1
4. Самый большой полуостров Аравийский 1

Океан № 4. Это второй по площади океан мира, в нём находится море без берегов. На востоке океана располагаются самое маленькое по площади и самое маленькое по глубине моря мира.

Определите

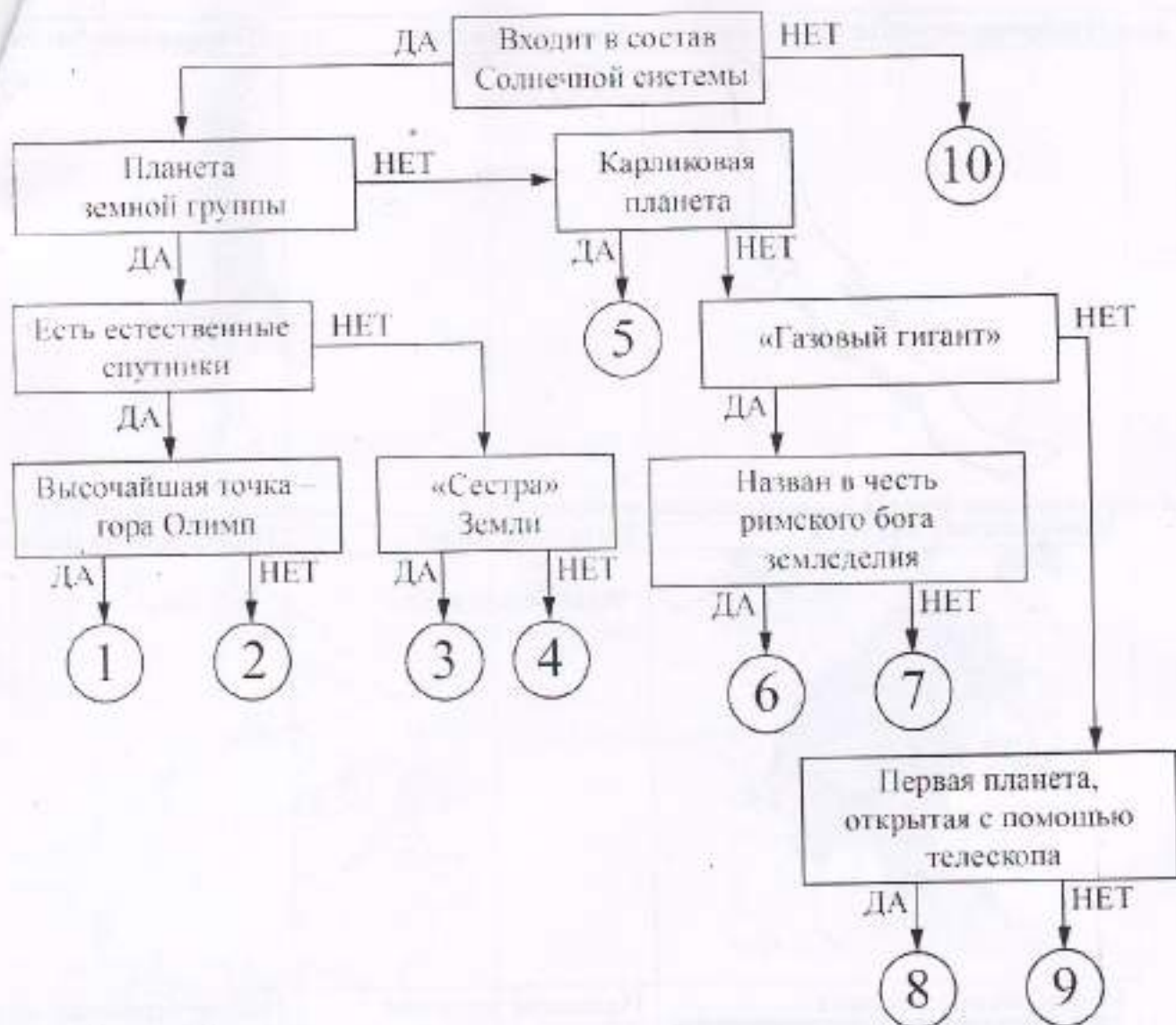
1. Название океана Атлантический 3
2. Море без берегов Саргассово 1
3. Самое маленькое море по площади Мраморное 1
4. Самое маленькое море по глубине Азовское 1

Как называется «пятый» океан? Южный 1

Задание 2

Следуя алгоритму, распределите объекты на соответствующие позиции.

25



Под каждым объектом запишите номер соответствующей позиции на схеме.

Объект	№ на схеме	Объект	№ на схеме
Плутон	5	Нептун	9
Уран	8	Земля	2
Меркурий	4	Юпитер	7
Сатурн	6	Полярная Звезда	10
Венера	3	Марс	7

Задание 3





Определите по изображениям природные объекты-рекордсмены нашей страны. Напишите их названия в полях ответов и подберите высказывание (1 - 6), которое будет характерно для каждого определённого Вами объекта. Ответьте на вопрос в конце задания. Ответы запишите в именительном падеже словом или словосочетанием.


Внимание! Ответы с орфографическими ошибками не засчитываются.

Высказывания о природных объектах

- Самый большой по площади полуостров нашей страны.
- Наивысшая точка нашей страны – 5642 метра над уровнем моря.
- Самое глубокое озеро не только в нашей стране, но и во всём мире.
- Самый большой по площади остров в России.
- Самое большое по площади озеро в Европе.
- Самый высокий действующий вулкан во всей Евразии.

225

Изображение объекта	Название озера	Номер высказыва
	<p>Байкал.</p>	<p>3</p> <p>4</p>
Изображение объекта	Название озера	Номер высказывания
	<p>Ладожское.</p>	<p>5</p> <p>0</p>
Изображение объекта	Название вулкана	Номер высказывания
	<p>Кизимовская сопка.</p>	<p>6</p> <p>4</p>
Изображение объекта	Название вершины	Номер высказывания
	<p>Зибурс.</p>	<p>2</p> <p>4</p>

Изображение объекта	Название острова	Номер высказывания
	Сахалин	4

Изображение объекта	Название полуострова	Номер высказывания
	(наверное Камчатка) или нет... Камчатка.	* 1

Один из определённых Вами объектов расположен неподалеку от второго по численности населения города нашей страны. Напишите название этого города

Название города
Санкт-Петербург.

1
21

Итого: 82

Максимальная оценка за работу – 95 баллов.

Г-5-2

I РАУНД (ТЕСТОВЫЙ)

1. Как называется наука о небесных телах? Обведи нужную букву.

- а) История б) география в) экология **г) астрономия.**

2. Сколько планет вращается вокруг солнца?

- а) 7 **б) 8** и Плутон. в) 11 г) 15

3. Что такое глобус?

- а) модель Солнца **б) модель Земли** в) модель шара

4. Люди, которые производят раскопки древних поселений:

- а) археологи** б) экологи в) астрономы г) географы

5. В каком городе был открыт первый музей в России - Кунсткамера?

- а) в Москве б) в Киеве **в) в Санкт-Петербурге** г) в Курске.

6. Установи соответствие:

Где добывают полезные ископаемые?

- а) в шахтах 1. нефть
б) буровые 2. установки известняк
в) в карьерах 3. каменный уголь

а	б	в
3	2	1

7. Подчеркни лишнее слово в каждой строке.

- а) овес, кукуруза, подсолнечник, лук.
б) огурец, кабачок, чеснок, вишня.
в) груша, абрикос, гречиха, смородина.
г) капуста, лилия, прис, флоксы.

8. На берегах какой реки возникло Египетское государство?

- а) Нил** б) Амазонка в) Дон г) Конго.

9. Как называется воин на коне, закованный в латы, в шлеме, с мечом и щитом?

- а) витязь **б) рыцарь** в) оруженосец

10. Какой материк называют Новым светом?

- а) Африка **б) Америка** в) Антарктида г) Австралия.

11. Дополни предложение:

Великий путешественник Фернан Магеллан, совершив кругосветную экспедицию, доказал что земля круглая.

12. Кто открыл Америку?

- а) Фернан Магеллан **б) Христофор Колумб** в) Михаил Лазарев.

13. Дополни предложение:

Людей, которые ведут записи событий своего времени, называют _____

14. Кто основал Санкт-Петербург?

- а) Иван Грозный **б) Петр Первый** в) Александр Второй г) Екатерина Вторая

15. Дополни предложение:

Русские путешественники Фаддей Беллинсгаузен и Михаил Лазарев открыли материк Антарктида.

II. АНАЛИТИЧЕСКИЙ РАУНД.

Задание 1

Гидросфера – водная оболочка Земли. Большую часть планеты занимает Мировой океан, который географы делят на отдельные океаны – кто-то на четыре, а кто-то на пять. Определите океаны планеты по текстовым описаниям, ответив на дополнительные вопросы, и напишите, какой «пятый» океан не представлен в описаниях. Ответы запишите в именительном падеже, словом или словосочетанием.

Океан № 1. Большая часть акватории океана принадлежит самой большой по площади стране мира. Несмотря на то, что это самый маленький по площади и глубине океан мира, его воды омывают самый большой по площади остров мира. Область планеты, в пределах

+
+
+
- | 1,5

-

+

+

-

+20

-

+

+

25
13,5

вод этого океана, носит греческое название крупного млекопитающего. Название это животного также отражено в названиях созвездий.

Определите

1. Название океана Северный Ледовитый океан 3
2. Самое большое по площади государство мира Россия 1
3. Самый большой по площади остров мира Гренландия 1
4. Крупное млекопитающее синий кит 0

Океан № 2. Имя этому океану дал португальский мореплаватель, возглавлявший испанскую кругосветную экспедицию. Нрав этого океана не соответствует названию, не случайно его также называют «Великим», поскольку это самый большой по площади акватории океан, здесь расположена самая глубокая океаническая впадина. Это самый тёплый океан. У побережья самого маленького материка планеты находится самая крупная форма рельефа, построенная живыми организмами. Эта постройка находится в море, названном по названию этих уникальных организмов.

Определите

1. Название океана Тихий 3
2. Фамилию мореплвателя Фернанд Магеллан 1
3. Название впадины Марьянская 1
4. Море, названное по названию живых организмов Коралловое море 1

Океан № 3. Это третий по площади океан мира, назван по названию государства. В нём расположено одно из «цветных» морей мира, отличающееся самой высокой солёностью поверхностных вод. Частью океана является залив, в котором зарегистрирована самая высокая температура поверхностных вод. И море, и залив омывают побережья самого большого по площади полуострова Земли.

Определите

1. Название океана Индийский 3
2. Самое солёное море Красное море 1
3. Самый тёплый залив Персидский 1
4. Самый большой полуостров Аравийский 1

Океан № 4. Это второй по площади океан мира, в нём находится море без берегов. На востоке океана располагаются самое маленькое по площади и самое маленькое по глубине моря мира.

Определите

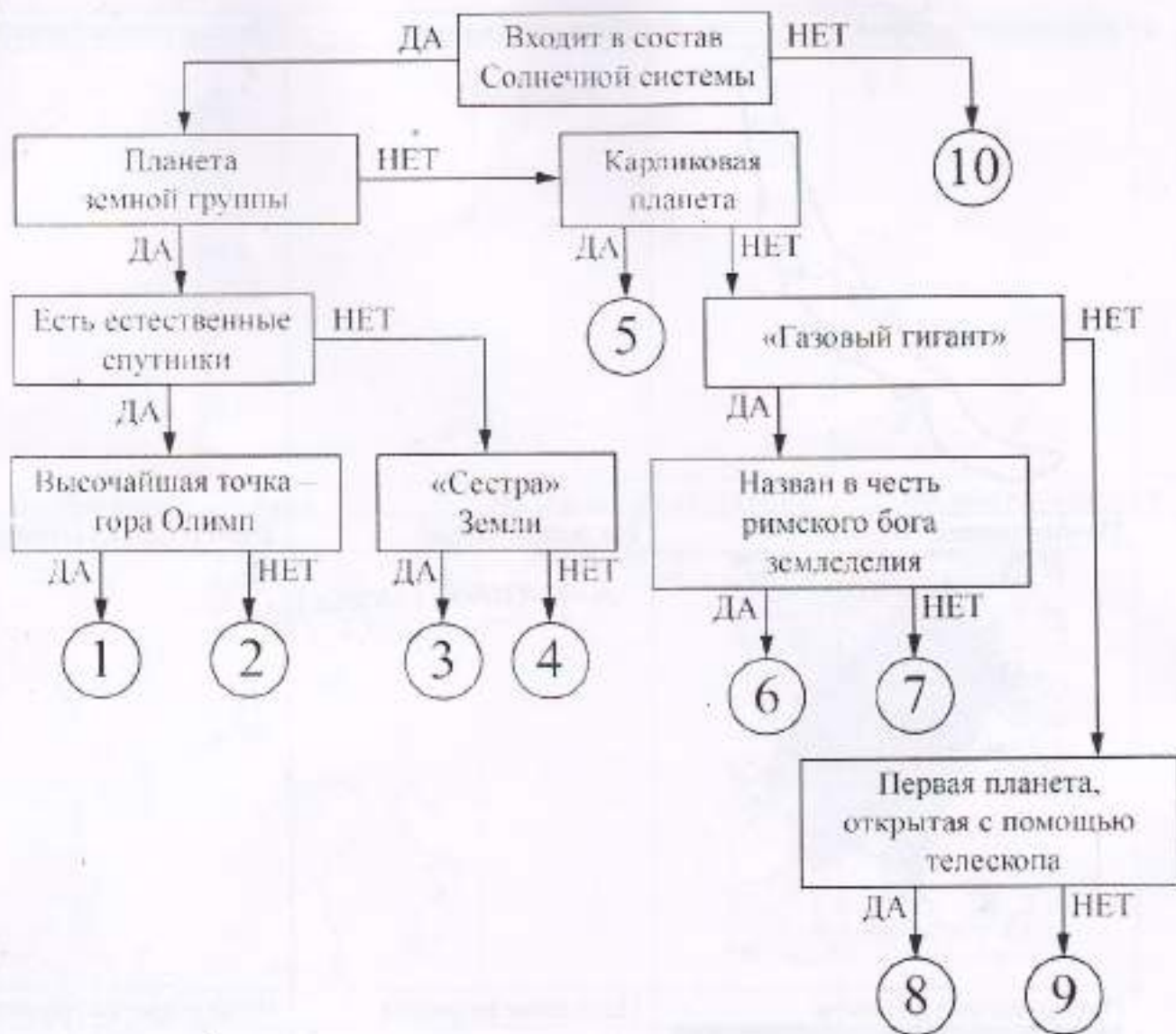
1. Название океана Атлантический 3
2. Море без берегов Саргассова 1
3. Самое маленькое море по площади Мраморное 1
4. Самое маленькое море по глубине Азовское 1

Как называется «пятый» океан? Южный 1

Задание 2

Следуя алгоритму, распределите объекты на соответствующие позиции.

24



Под каждым объектом запишите номер соответствующей позиции на схеме.

Объект	№ на схеме	Объект	№ на схеме
Плутон	6 -	Нептун	4 -
Уран	8 +	Земля	2 +
Меркурий	9 -	Юпитер	7 +
Сатурн	8 +	Полярная Звезда	10 +
Венера	5 -	Марс	1 +

Задание 3

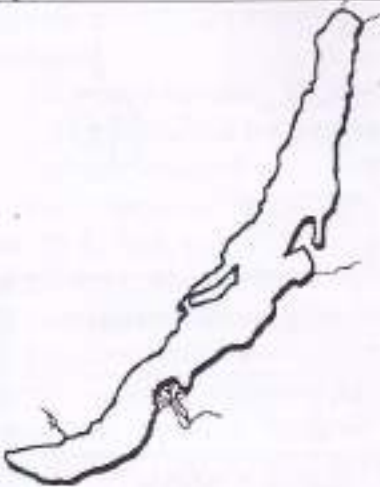



Определите по изображениям природные объекты-рекордсмены нашей страны. Напишите их названия в полях ответов и подберите высказывание (1 - 6), которое будет характерно для каждого определённого Вами объекта. Ответьте на вопрос в конце задания. Ответы запишите в именительном падеже словом или словосочетанием.


Внимание! Ответы с орфографическими ошибками не засчитываются.

Высказывания о природных объектах

- Самый большой по площади полуостров нашей страны.
- Наивысшая точка нашей страны – 5642 метра над уровнем моря.
- Самое глубокое озеро не только в нашей стране, но и во всём мире.
- Самый большой по площади остров в России.
- Самое большое по площади озеро в Европе.
- Самый высокий действующий вулкан во всей Евразии.

115

Изображение объекта	Название озера	Номер высказывания
	Балхаш + 2	5 — 0
Изображение объекта	Название озера	Номер высказывания
	Ладожское (Ладoga) 2	3 0
Изображение объекта	Название вулкана	Номер высказывания
	Ключевская Сопка 2	6 2
Изображение объекта	Название вершины	Номер высказывания
	Эльбрус 2	2 2

Изображение объекта	Название острова	Номер высказывания
	Сахалин 2	41 0

Изображение объекта	Название полуострова	Номер высказывания
	Камчатка 2	4 0

Один из определённых Вами объектов расположен неподалеку от второго по численности населения города нашей страны. Напишите название этого города	Название города
	Санкт-Петербург 1

15

Итого: 78

Максимальная оценка за работу – 95 баллов.

I РАУНД (ТЕСТОВЫЙ)

1. Как называется наука о небесных телах? Обведи пущую букву.

- а) История б) география в) экология астрономия.

2. Сколько планет вращается вокруг солнца?

- а) 7 б) 8 и Плутон. в) 11 г) 15

3. Что такое глобус?

- а) модель Солнца б) модель Земли в) модель шара

4. Люди, которые производят раскопки древних поселений:

- археологи б) экологи в) астрономы г) географы

5. В каком городе был открыт первый музей в России - Кунсткамера?

- а) в Москве б) в Киеве в Санкт-Петербурге г) в Курске.

6. Установи соответствие:

Где добывают полезные ископаемые?

- а) в шахтах 1. нефть
б) буровые 2. установки известняк
в) в карьерах 3. каменный уголь

а	б	в
3	1	2

7. Подчеркни лишнее слово в каждой строке.

- а) овес, кукуруза, подсолнечник, лук.
б) огурец, кабачок, чеснок, вишня.
в) груша, абрикос, гречиха, смородина.
г) капуста, лилия, ирис, флоксы.

8. На берегах какой реки возникло Египетское государство?

- Нил б) Амазонка в) Дон г) Конго.

9. Как называется воин на коне, закованный в латы, в шлеме, с мечом и щитом?

- а) витязь б) рыцарь в) оруженосец

10. Какой материк называют Новым светом?

- а) Африка б) Америка в) Антарктида г) Австралия.

11. Дополни предложение:

Великий путешественник Фернан Магеллан, совершив кругосветную экспедицию, доказал что Земля имеет форму шара

12. Кто открыл Америку?

- а) Фернан Магеллан б) Христофор Колумб в) Михаил Лазарев.

13. Дополни предложение:

Людей, которые ведут записи событий своего времени, называют летописцы.

14. Кто основал Санкт-Петербург?

- а) Иван Грозный б) Петр Первый в) Александр Второй г) Екатерина Вторая

15. Дополни предложение:

Русские путешественники Фаддей Беллинсгаузен и Михаил Лазарев открыли материк Антарктида

II. АНАЛИТИЧЕСКИЙ РАУНД.

Задание 1

Гидросфера – водная оболочка Земли. Большую часть планеты занимает Мировой океан, который географы делят на отдельные океаны – кто-то на четыре, а кто-то на пять. Определите океаны планеты по текстовым описаниям, ответив на дополнительные вопросы, и напишите, какой «пятый» океан не представлен в описаниях. Ответы запишите в именительном падеже, словом или словосочетанием.

Океан № 1. Большая часть акватории океана принадлежит самой большой по площади стране мира. Несмотря на то, что это самый маленький по площади и глубине океан мира, его воды омывают самый большой по площади остров мира. Область планеты, в пределах

Г-5-3

+
+
+
+

12

12

-

+

+

+ 2

1

1

2/24

вод этого океана, носит греческое название крупного млекопитающего. Название этого животного также отражено в названиях созвездий.

Определите

1. Название океана Северный ледовитый океан 3
2. Самое большое по площади государство мира Россия 1
3. Самый большой по площади остров мира Гренландия 1
4. Крупное млекопитающее Медведь 1

Океан № 2. Имя этому океану дал португальский мореплаватель, возглавивший испанскую кругосветную экспедицию. Нрав этого океана не соответствует названию, не случайно его также называют «Великим», поскольку это самый большой по площади акватории океан, здесь расположена самая глубокая океаническая впадина. Это самый тёплый океан. У побережья самого маленького материка планеты находится самая крупная форма рельефа, построенная живыми организмами. Эта постройка находится в море, названном по названию этих уникальных организмов.

Определите

1. Название океана Тихий океан 3
2. Фамилию мореплвателя Фернан Магелан 1
3. Название впадины Мариянская 1
4. Море, названное по названию живых организмов Коралловое 1

Океан № 3. Это третий по площади океан мира, назван по названию государства. В нём расположено одно из «цветных» морей мира, отличающееся самой высокой солёностью поверхностных вод. Частью океана является залив, в котором зарегистрирована самая высокая температура поверхностных вод. И море, и залив омывают побережья самого большого по площади полуострова Земли.

Определите

1. Название океана Индийский океан 3
2. Самое солёное море Красное море 1
3. Самый тёплый залив Персидский залив 1
4. Самый большой полуостров Аравийский 1

Океан № 4. Это второй по площади океан мира, в нём находится море без берегов. На востоке океана располагаются самое маленькое по площади и самое маленькое по глубине моря мира.

Определите

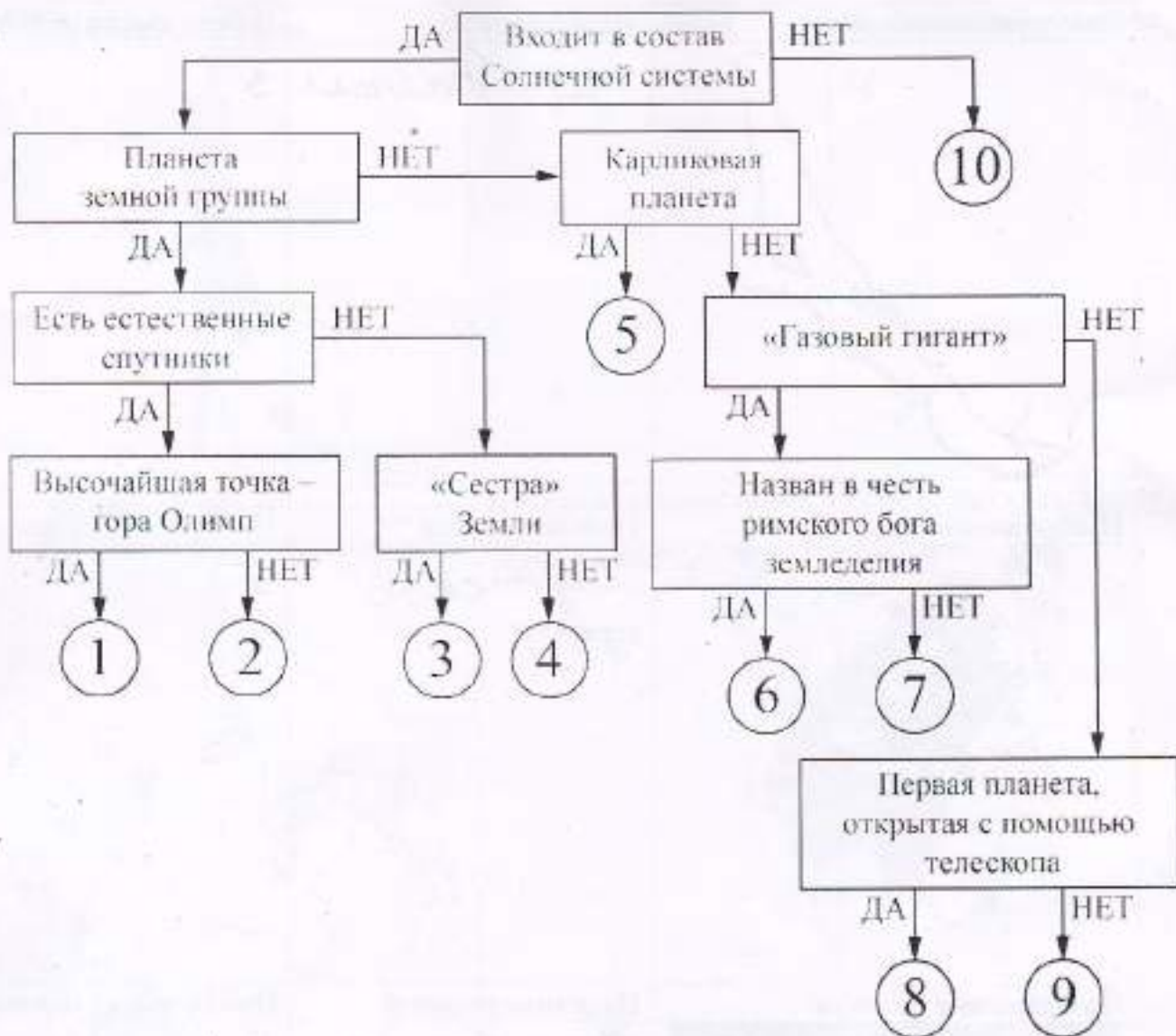
1. Название океана Атлантический океан 3
2. Море без берегов Саргассово море 1
3. Самое маленькое море по площади Карибское море 1
4. Самое маленькое море по глубине Азовское море 1

Как называется «пятый» океан? Южный океан 1

Задание 2

Следуя алгоритму, распределите объекты на соответствующие позиции.

25



Под каждым объектом запишите номер соответствующей позиции на схеме.

Объект	№ на схеме	Объект	№ на схеме
Плутон	5 +	Нептун	9 -
Уран	8 +	Земля	2 +
Меркурий	4 +	Юпитер	7 +
Сатурн	6 +	Полярная Звезда	10 +
Венера	3 +	Марс	1 -

Задание 3


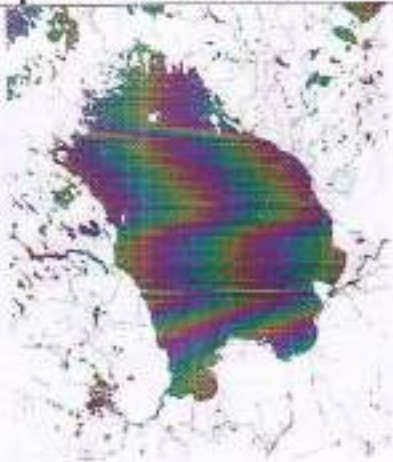


Определите по изображениям природные объекты-рекордсмены нашей страны. Напишите их названия в полях ответов и подберите высказывание (1 - 6), которое будет характерно для каждого определённого Вами объекта. Ответьте на вопрос в конце задания. Ответы запишите в именительном падеже словом или словосочетанием.


Внимание! Ответы с орфографическими ошибками не засчитываются.

Высказывания о природных объектах

- Самый большой по площади полуостров нашей страны.
- Наивысшая точка нашей страны – 5642 метра над уровнем моря.
- Самое глубокое озеро не только в нашей стране, но и во всём мире.
- Самый большой по площади остров в России.
- Самое большое по площади озеро в Европе.
- Самый высокий действующий вулкан во всей Евразии.

120

Изображение объекта	Название озера	Номер высказывания
	озеро Байкал	3 +
	Ладотское озеро	5 +
	Ключевской	6 -
	Эльбрус	2 +

Изображение объекта	Название острова	Номер высказывания
	Сахалин	4
		4

Изображение объекта	Название полуострова	Номер высказывания
	Таймыр	1
		4

Один из определённых Вами объектов расположен неподалеку от второго по численности населения города нашей страны. Напишите название этого города	Название города
	Санкт-Петербург

21/

Уточно! 79

Максимальная оценка за работу – 95 баллов.

Г-5-4

I РАУНД (ТЕСТОВЫЙ)

1. Как называется наука о небесных телах? Обведи нужную букву.

- а) История б) география в) экология г) астрономия.

2. Сколько планет вращается вокруг солнца?

- а) 7 б) 8 и Плутон. в) 11 г) 15

3. Что такое глобус?

- а) модель Солнца б) модель Земли в) модель шара

4. Люди, которые производят раскопки древних поселений:

- а) археологи б) экологи в) астрономы г) географы

5. В каком городе был открыт первый музей в России - Кунсткамера?

- а) в Москве б) в Киеве в) в Санкт-Петербурге г) в Курске.

6. Установи соответствие:

Где добывают полезные ископаемые?

- | | |
|---------------|------------------------|
| а) в шахтах | 1. нефть |
| б) буровые | 2. установки известняк |
| в) в карьерах | 3. каменный уголь |

а	б	в
2	1	3

7. Подчеркни лишнее слово в каждой строке.

- а) овес, кукуруза, подсолнечник, лук.
б) огурец, кабачок, чеснок, вишня.
в) груша, абрикос, гречиха, смородина.
г) капуста, лилия, ирис, флоксы.

8. На берегах какой реки возникло Египетское государство?

- а) Нил б) Амазонка в) Дон г) Конго.

9. Как называется воин на коне, закованный в латы, в шлеме, с мечом и щитом?

- а) витязь б) рыцарь в) оруженосец

10. Какой материк называют Новым светом?

- а) Африка б) Америка в) Антарктида г) Австралия.

11. Дополни предложение:

Великий путешественник Фернан Магеллан, совершив кругосветную экспедицию, доказал что земля круглая

12. Кто открыл Америку?

- а) Фернан Магеллан б) Христофор Колумб в) Михаил Лазарев.

13. Дополни предложение:

Людей, которые ведут записи событий своего времени, называют летописцами

14. Кто основал Санкт-Петербург?

- а) Иван Грозный б) Петр Первый в) Александр Второй г) Екатерина Вторая

15. Дополни предложение:

Русские путешественники Фаддей Беллинсгаузен и Михаил Лазарев открыли материк Антарктида

II. АНАЛИТИЧЕСКИЙ РАУНД.

Задание 1

Гидросфера – водная оболочка Земли. Большую часть планеты занимает Мировой океан, который географы делят на отдельные океаны – кто-то на четыре, а кто-то на пять. Определите океаны планеты по текстовым описаниям, ответив на дополнительные вопросы, и напишите, какой «пятый» океан не представлен в описаниях. Ответы запишите в именительном падеже, словом или словосочетанием.

Океан № 1. Большая часть акватории океана принадлежит самой большой по площади стране мира. Несмотря на то, что это самый маленький по площади и глубине океан мира, его воды омывают самый большой по площади остров мира. Область планеты, в пределах

+ 25 / 135

вод этого океана, носит греческое название крупного млекопитающего. Название животного также отражено в названиях созвездий.

Определите

1. Название океана Северный ледовитый 0
2. Самое большое по площади государство мира Россия 1
3. Самый большой по площади остров мира Гренландия 1
4. Крупное млекопитающее Медведь 1

Океан № 2. Имя этому океану дал португальский мореплаватель, возглавлявший испанскую кругосветную экспедицию. Нрав этого океана не соответствует названию, не случайно его также называют «Великим», поскольку это самый большой по площади акватории океан, здесь расположена самая глубокая океаническая впадина. Это самый тёплый океан. У побережья самого маленького материка планеты находится самая крупная форма рельефа, построенная живыми организмами. Эта постройка находится в море, названном по названию этих уникальных организмов.

Определите

1. Название океана Тихий 3
2. Фамилию мореплавателя Магеллан 1
3. Название впадины Маршальская 1
4. Море, названное по названию живых организмов Индийское море 0

Океан № 3. Это третий по площади океан мира, назван по названию государства. В нём расположено одно из «цветных» морей мира, отличающееся самой высокой солёностью поверхностных вод. Частью океана является залив, в котором зарегистрирована самая высокая температура поверхностных вод. И море, и залив омывают побережья самого большого по площади полуострова Земли.

Определите

1. Название океана Индийский 1
2. Самое солёное море Красное море 1
3. Самый тёплый залив Персидский 1
4. Самый большой полуостров Аравия 0

Океан № 4. Это второй по площади океан мира, в нём находится море без берегов. На востоке океана располагаются самое маленькое по площади и самое маленькое по глубине моря мира.

Определите

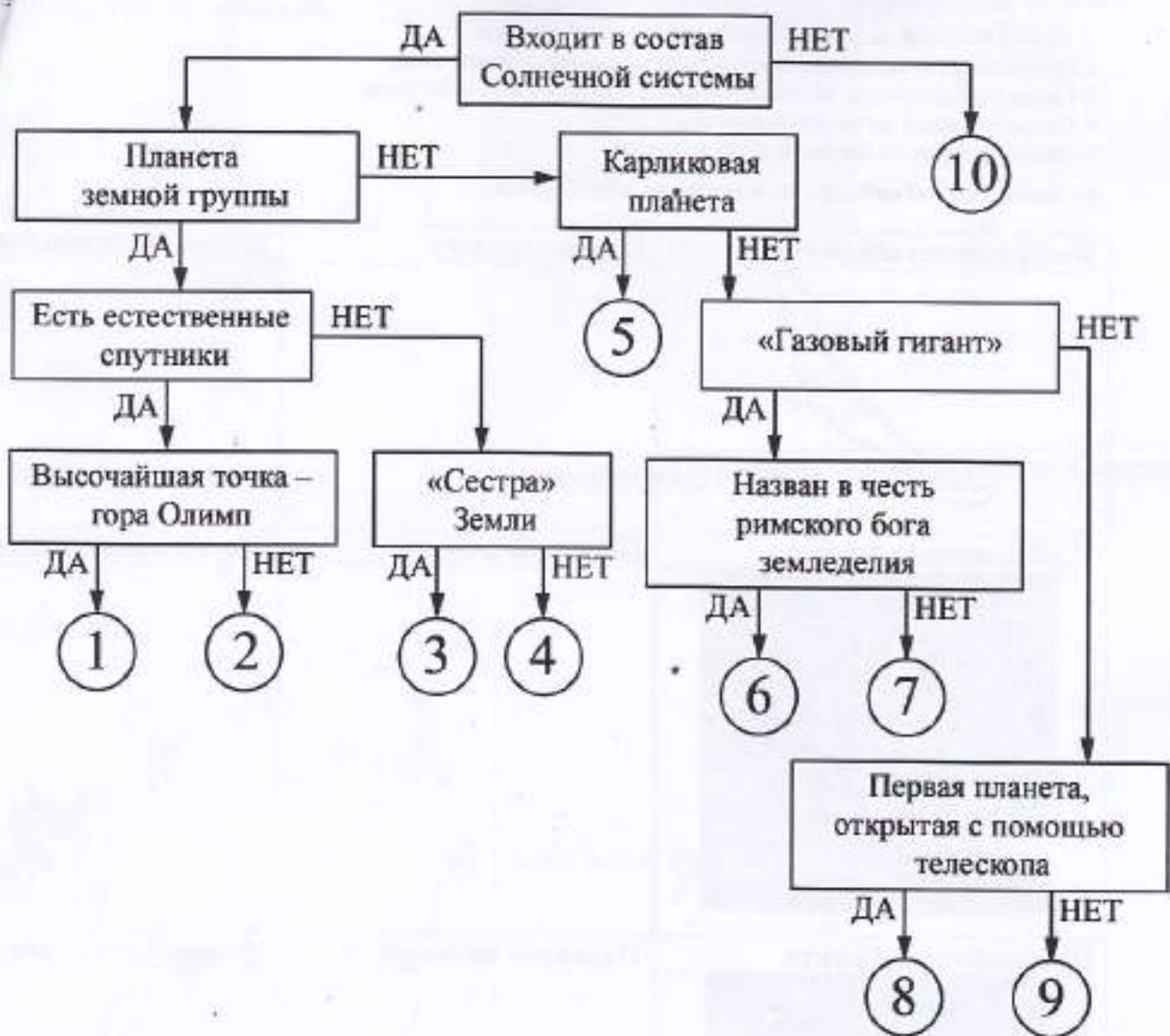
1. Название океана Атлантический 3
2. Море без берегов Саргассово море 1
3. Самое маленькое море по площади Иравадское 1
4. Самое маленькое море по глубине Азовское 1

Как называется «пятый» океан? Южный ледовитый океан 0

Задание 2

Следуя алгоритму, распределите объекты на соответствующие позиции.

185



Под каждым объектом запишите номер соответствующей позиции на схеме.

Объект	№ на схеме	Объект	№ на схеме
Плутон		Нептун	
Уран		Земля	
Меркурий		Юпитер	
Сатурн		Полярная Звезда	
Венера		Марс	

Критерии оценивания:

За каждый правильный ответ – 2,5 балла.


Максимальное количество баллов – 25.

Задание 3

Определите по изображениям природные объекты-рекордсмены нашей страны. Напишите их названия в полях ответов и подберите высказывание (1 - 6), которое будет характерно для каждого определённого Вами объекта. Ответьте на вопрос в конце задания. Ответы запишите в именительном падеже словом или словосочетанием.

Внимание! Ответы с орфографическими ошибками не засчитываются.

Высказывания о природных объектах

Изображение объекта	Название острова	Номер высказывания
	Сахалин 4	4

Изображение объекта	Название полуострова	Номер высказывания
	Камчатка 1	1

Один из определённых Вами объектов расположен неподалеку от второго по численности населения города нашей страны. Напишите название этого города	Название города
	Санкт-Петербург 1

95

Итого: 465

I РАУНД (ТЕСТОВЫЙ)

1. Как называется наука о небесных телах? Обведи нужную букву.

- а) История б) география в) экология г) астрономия.

2. Сколько планет вращается вокруг солнца?

- а) 7 б) 8 и Плутон. в) 11 г) 15

3. Что такое глобус?

- а) модель Солнца б) модель Земли в) модель шара

4. Люди, которые производят раскопки древних поселений:

- а) археологи б) экологи в) астрономы г) географы

5. В каком городе был открыт первый музей в России - Кунсткамера?

- а) в Москве б) в Киеве в) в Санкт-Петербурге г) в Курске.

6. Установи соответствие:

Где добывают полезные ископаемые?

- | | |
|---------------|------------------------|
| а) в шахтах | 1. нефть |
| б) буровые | 2. установки известняк |
| в) в карьерах | 3. каменный уголь |

а	б	в
3	1	2

7. Подчеркни лишнее слово в каждой строке.

- а) овес, кукуруза, подсолнечник, лук.

- б) огурец, кабачок, чеснок, вишня.

- в) груша, абрикос, гречиха, смородина.

- г) капуста, лилия, ирис, флоксы.

8. На берегах какой реки возникло Египетское государство?

- а) Нил б) Амазонка в) Дон г) Конго.

9. Как называется воин на коне, закованный в латы, в шлеме, с мечом и щитом?

- а) витязь б) рыцарь в) оруженосец

10. Какой материк называют Новым светом?

- а) Африка б) Америка в) Антарктида г) Австралия.

11. Допиши предложение:

Великий путешественник Фернан Магеллан, совершив кругосветную экспедицию, доказал что земля круглая.

12. Кто открыл Америку?

- а) Фернан Магеллан б) Христофор Колумб в) Михаил Лазарев.

13. Допиши предложение:

Людей, которые ведут записи событий своего времени, называют летописцами.

14. Кто основал Санкт-Петербург?

- а) Иван Грозный б) Петр Первый в) Александр Второй г) Екатерина Вторая.

15. Допиши предложение:

Русские путешественники Фаддей Беллинсгаузен и Михаил Лазарев открыли материк Антарктида.

II. АНАЛИТИЧЕСКИЙ РАУНД.

Задание 1

Гидросфера – водная оболочка Земли. Большую часть планеты занимает Мировой океан, который географы делят на отдельные океаны – кто-то на четыре, а кто-то на пять. Определите океаны планеты по текстовым описаниям, ответив на дополнительные вопросы, и напишите, какой «пятый» океан не представлен в описаниях. Ответы запишите в именительном падеже, словом или словосочетанием.

Океан № 1. Большая часть акватории океана принадлежит самой большой по площади стране мира. Несмотря на то, что это самый маленький по площади и глубине океан мира, его воды омывают самый большой по площади остров мира. Область планеты, в пределах

вод этого океана, носит греческое название крупного млекопитающего. Название этого животного также отражено в названиях созвездий.

Определите

1. Название океана Северный ледовитый ³
2. Самое большое по площади государство мира Россия ¹
3. Самый большой по площади остров мира Гренландия
4. Крупное млекопитающее Медведь ¹

Океан № 2. Имя этому океану дал португальский мореплаватель, возглавивший испанскую кругосветную экспедицию. Нрав этого океана не соответствует названию, не случайно его также называют «Великим», поскольку это самый большой по площади акватории океан, здесь расположена самая глубокая океаническая впадина. Это самый тёплый океан. У побережья самого маленького материка планеты находится самая крупная форма рельефа, построенная живыми организмами. Эта постройка находится в море, названном по названию этих уникальных организмов.

Определите

1. Название океана Тихий океан ³
2. Фамилию мореплавателя _____
3. Название впадины Маринская впадина ¹
4. Море, названное по названию живых организмов _____

Океан № 3. Это третий по площади океан мира, назван по названию государства. В нём расположено одно из «цветных» морей мира, отличающееся самой высокой солёностью поверхностных вод. Частью океана является залив, в котором зарегистрирована самая высокая температура поверхностных вод. И море, и залив омывают побережья самого большого по площади полуострова Земли.

Определите

1. Название океана _____
2. Самое солёное море Мёртвое море ⁰
3. Самый тёплый залив _____
4. Самый большой полуостров _____

Океан № 4. Это второй по площади океан мира, в нём находится море без берегов. На востоке океана располагаются самое маленькое по площади и самое маленькое по глубине моря мира.

Определите

1. Название океана _____
2. Море без берегов _____
3. Самое маленькое море по площади _____
4. Самое маленькое море по глубине _____

Как называется «пятый» океан? _____

Задание 2

Следуя алгоритму, распределите объекты на соответствующие позиции.